

CLASSE 2 NOME: ..... COGNOME: .....  
DATA: .....

**VERIFICA**

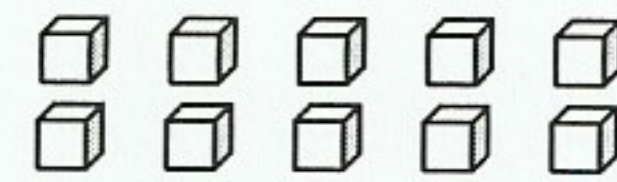
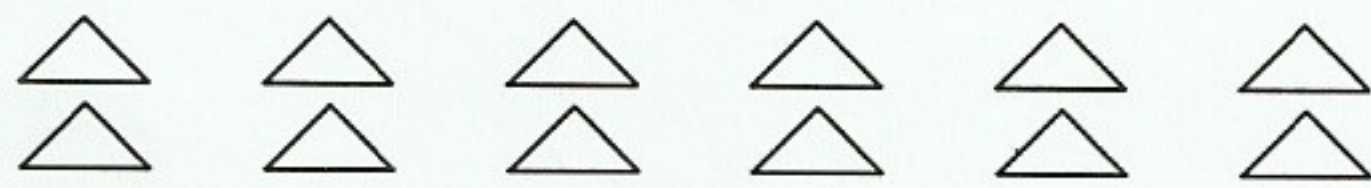
1) **Scrivi un'addizione e una moltiplicazione**



.....

.....

2) **Da ogni schieramento ricava due moltiplicazioni**

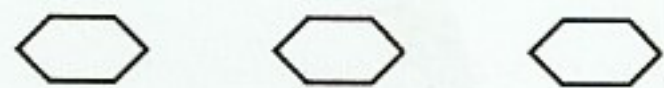
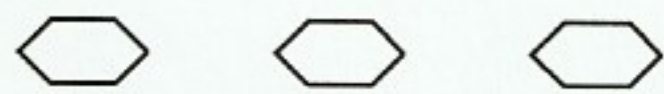


.....

.....

.....

.....



.....

.....

.....

.....

3) **Rappresenta ogni operazione con uno schieramento**

$7 \times 4 =$

$5 \times 6 =$

$8 \times 3 =$

4) **Trasforma in moltiplicazione**

$2 + 2 + 2 + 2 + 2 + 2 = 12$

$3 + 3 + 3 + 3 = 12$

$4 + 4 = 8$

.....

.....

.....

5) **Trasforma in addizione**

$3 \times 6 = 18$

$3 \times 4 = 12$

$4 \times 5 = 20$

.....

.....

.....

6) Vedi ultima pagina